


姓名	洪迦瑜 (8)	課次	平面圖形
班別	1 A/B/C	日期	6 月 8 日


從報章、雜誌中剪出最少四個平面圖形，並貼在下面，然後寫出該平面圖形的名稱。




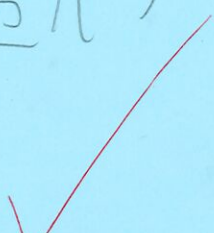
四邊形




三角形



五邊形



圓形



互相評一評：

評估項目	同學的表現			教師評分	
	有待改善	表現一般	表現滿意		
知識	1. 能分辨出不同的平面圖形	☺	☺☺	☺☺☺	☺☺☺
	2. 能寫上正確的名稱	☺	☺☺	☺☺☺	☺☺☺
技能和態度	1. 能夠適當地搜集所需資料	☺	☺☺	☺☺☺	☺☺☺
	2. 能夠有條理地作記錄	☺	☺☺	☺☺☺	☺☺☺
同學簽署：				批改日期： 15/6	

