


姓名	姜翠兒 (12)	課題	立體圖形
班別	1 A/B/C	日期	10月31日

從報章、雜誌中，找出一些像角柱、圓柱、角錐、圓錐或球的圖片，貼在下面，並寫出該立體的名稱。



球



角柱




角錐



圓柱

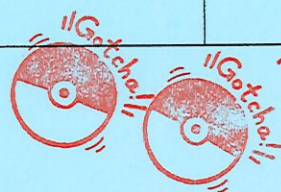


圓錐




互相評一評：

評估項目	同學互評			教師評分
	有待改善	表現一般	表現滿意	
知識	1. 能把各種不同的立體圖形分類	☺	☺☺☺	☺☺☺
	2. 能寫上正確的立體圖形名稱	☺	☺☺☺	☺☺☺
技能和態度	1. 能夠適當地搜集所需資料	☺	☺☺☺	☺☺☺
	2. 能夠有條理地作記錄	☺	☺☺☺	☺☺☺
			同學簽署：	批改日期：



姓名	藍雅馨	(14)	課題	立體圖形
班別	1 A/B/C		日期	10月30日

從報章、雜誌中，找出一些像角柱、圓柱、角錐、圓錐或球的圖片，貼在下面，並寫出該立體的名稱。




圓柱



角柱



球



角錐



圓錐

互相評一評：

評估項目	同學互評			教師評分
	有待改善	表現一般	表現滿意	
知識	1. 能把各種不同的立體圖形分類	☺	☺☺☺	☺☺☺
	2. 能寫上正確的立體圖形名稱	☺	☺☺☺	☺☺☺
技能和態度	1. 能夠適當地搜集所需資料	☺	☺☺☺	☺☺☺
	2. 能夠有條理地作記錄	☺	☺☺☺	☺☺☺
同學簽署：				批改日期：



11

姓名	王溢希 (25)	課題	立體圖形
班別	1 A/B/C	日期	10 月 23 日


從報章、雜誌中，找出一些像角柱、圓柱、角錐、圓錐或球的圖片，貼在下面，並寫出該立體的名稱。



角柱




圓柱



角柱



圓柱



圓錐

互相評一評：

評估項目	同學互評			教師評分
	有待改善	表現一般	表現滿意	
知識	1. 能把各種不同的立體圖形分類	☺	☺☺	☺☺☺
	2. 能寫上正確的立體圖形名稱	☺	☺☺	☺☺☺
技能和態度	1. 能夠適當地搜集所需資料	☺	☺☺	☺☺☺
	2. 能夠有條理地作記錄	☺	☺☺	☺☺☺
同學簽署：				批改日期： 23/10