



姓名	林玥 (15)	課題	毫米和公里
班別	3 (A)/B/C	日期	10月 15日

有什麼物件是用毫米作單位？有什麼物件是用公里作單位？
試把它們的圖片貼出來，並加上文字說明是什麼和其長度。




毫米

餅乾的厚度是 5mm




硬幣的厚度是 3mm



公里

維港海濱長廊全長 4.5 km



粉嶺公路全長 11.2 km

評一評：

評估項目		同學互評			教師評分
		有待改善	表現一般	表現滿意	
知識	1. 能判斷各物件的長短	☺	☺☺	☺☺☺	☺☺☺
	2. 能以適當的單位表示各物件的長度	☺	☺☺	☺☺☺	☺☺☺
技能和態度	1. 能夠適當地搜集所需資料	☺	☺☺	☺☺☺	☺☺☺
	2. 能夠有條理地作記錄	☺	☺☺	☺☺☺	☺☺☺
		同學簽署：	鍾慧思		批改日期：2/11

姓名	陳雅喬 (4)	課題	毫米和公里
班別	3 A/B/C	日期	10 月 16 日

有什麼物件是用毫米作單位？有什麼物件是用公里作單位？
試把它們的圖片貼出來，並加上文字說明是什麼和其長度。



釘長度8毫米

毫米



AAA電池長度45毫米





機場跑道長度3.8公里

公里



東鐵綫長度41.5公里

評一評：

評估項目		同學互評			教師評分
		有待改善	表現一般	表現滿意	
知識	1. 能判斷各物件的長短	☺	☺☺	☺☺☺	☺☺☺
	2. 能以適當的單位表示各物件的長度	☺	☺☺	☺☺☺	☺☺☺
技能和態度	1. 能夠適當地搜集所需資料	☺	☺☺	☺☺☺	☺☺☺
	2. 能夠有條理地作記錄	☺	☺☺	☺☺☺	☺☺☺
		同學簽署：			批改 日期： 20 / 10

